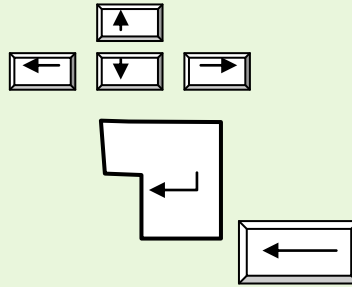


<p>التاريخ: 2015/02/24</p> <p>المدة: ساعة</p>	<p>الاختبار الثاني في مادة الإعلام الآلي</p>	<p>متوسطة البشير الإبراهيمي</p> <p>المستوى: 1م.....</p>
<p>النقطة:</p>	<p>القسم:</p>	<p>الاسم: اللقب:</p>

التمرين الاول (6ن)

ما اسم هذه الزر



1-

2-

3-

التمرين الثاني(6ن)

رتب خطوات تشغيل معالج النصوص

1. --نضغط على زر البدا Démarrer.

2. تظهر قائمة ثالثة نختار منها Microsoft office

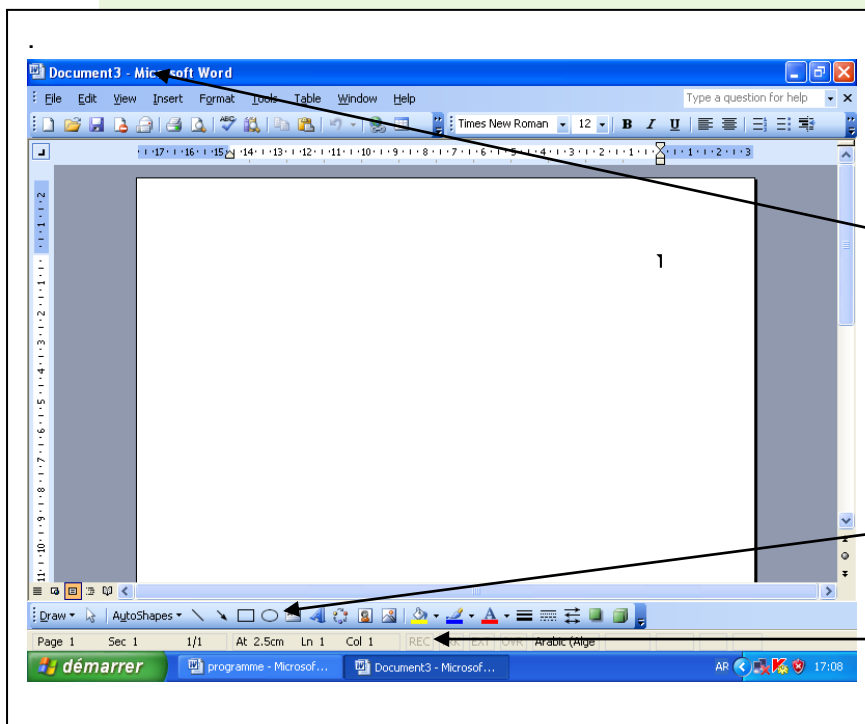
3. tout Programmes

4. تظهر قائمة أخرى نختار منها Microsoft Word

التمرين الثالث: (8ن)

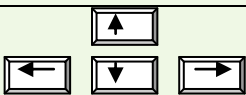
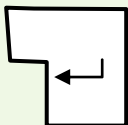
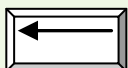
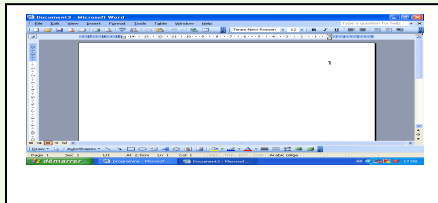
1-مادا يمثل هذا الرسم

2- ما اسم عناصر التي عليها سهم



التصحيح النموذجي الاختبار الفصل الثاني في مادة الاعلام الالي

المستوى الاول متوسط

التمرين	السؤال	الجواب	النقطة	مؤشر الكفاءة
التمرين الاول	س1	انتقال في اتجاهات مختلفة  الرجوع الى السطر عند نهاية الفقرة  لحذف ما قبل المشيرة 	2ن 2ن 2ن	يتعرف على لوحة المفاتيح
التمرين الثاني	س1	رتب خطوات تشغيل معالج النصوص 1--نضغط على زر البدا Démarrer 2 tout Programmes 3 تظهر قائمة ثالثة نختار منها office Microsoft 4 تظهر قائمة أخرى نختار منها Microsoft Word	1.5ن 1.5ن 1.5ن 1.5ن	تعرف تشغيل المعالج النصوص
التمرين الثالث	س1	شاشة المعالج النصوص  السهم 1 : شريط العنوان السهم 2 : شريط القوائم السهم 3: شريط التمرير تنظيم الورقة	2.5ن 1.5ن 1.5ن 1.5ن 2ن 1ن	تعرف على شاشة معالج النصوص تعرف على عناصر معالج النصوص