

﴿ 30 نوفمبر 2015 ﴾

اختبار الفصل الأول في التاريخ والجغرافيا

المدة : ساعتان

السنة الثالثة : 3 تق - 3 لغ - 3 هك - 3 هط - 3 ع 2

التاريخ: الجزء الأول (06 نقاط)

السند: ﴿ ما إن وضعت الحرب العالمية الثانية أوزارها، حتى انقسم العالم إلى معسكرين عملاقين... فالولايات المتحدة الأمريكية بنت سياستها على أساس العنف والذي عرف باستراتيجية التطويق والاحتواء لإحباط النزعة التوسعية السوفياتية من خلال إقامة سلسلة من الأحلاف والقواعد العسكرية (حلف شمال الأطلسي وحلف جنوب شرق آسيا وحلف بغداد) أما الاستراتيجية السوفياتية فقد تمثلت في محاولة تثبيت النفوذ السوفياتي في شرق أوروبا من خلال عقد سلسلة من موائيق الدفاع المشترك أو الأمن المتبادل... وقد عزز سيطرته على شرق أوروبا بإنشاء حلف وارسو ﴾ علي صبح - الصراع الدولي في نصف قرن - 1945 / 1995

التعليمة: انطلاقا من السند واعتمادا على معلوماتك المكتسبة:


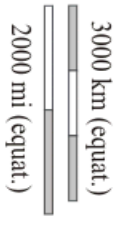
- 1 - عرّف بما يلي: هـاري ترومان - الاحتواء.
- 2 - على خريطة العالم، حدّد مقرات الأحلاف العسكرية المذكورة في السند.

التاريخ: الجزء الثاني (04 نقاط)

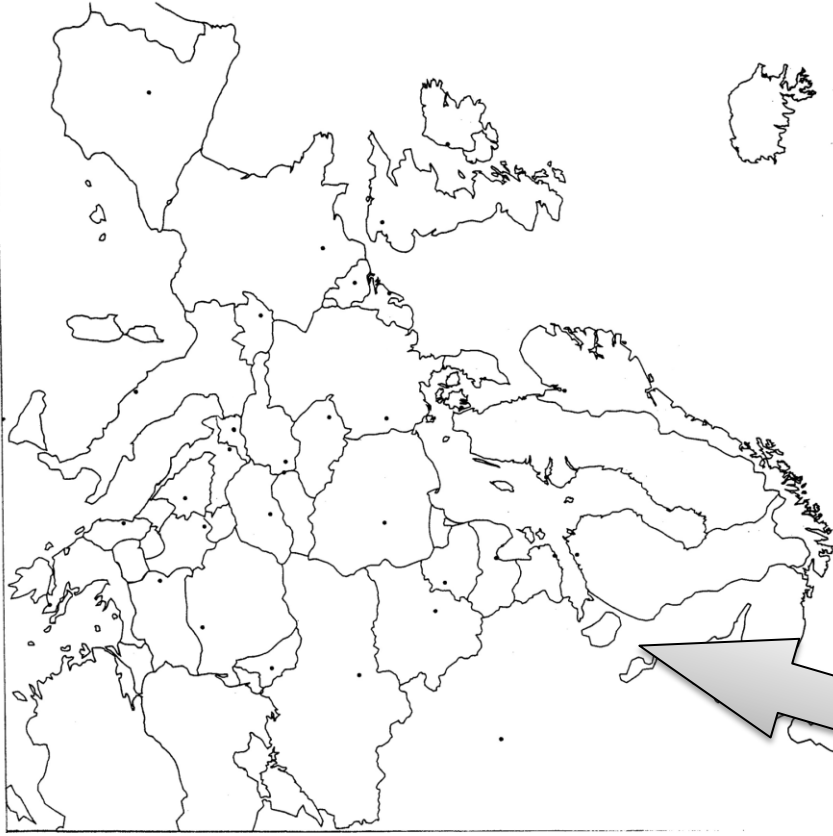
﴿ تميزت العلاقات الدولية عقب نهاية الحرب العالمية الثانية سنة 1945 بظهور تنظيم دولي جديد في ظل الثنائية القطبية ﴾

التعليمة: انطلاقا من العبارة و اعتمادا على مكتسباتك القبلية أكتب مقالا تاريخيا تبين فيه:


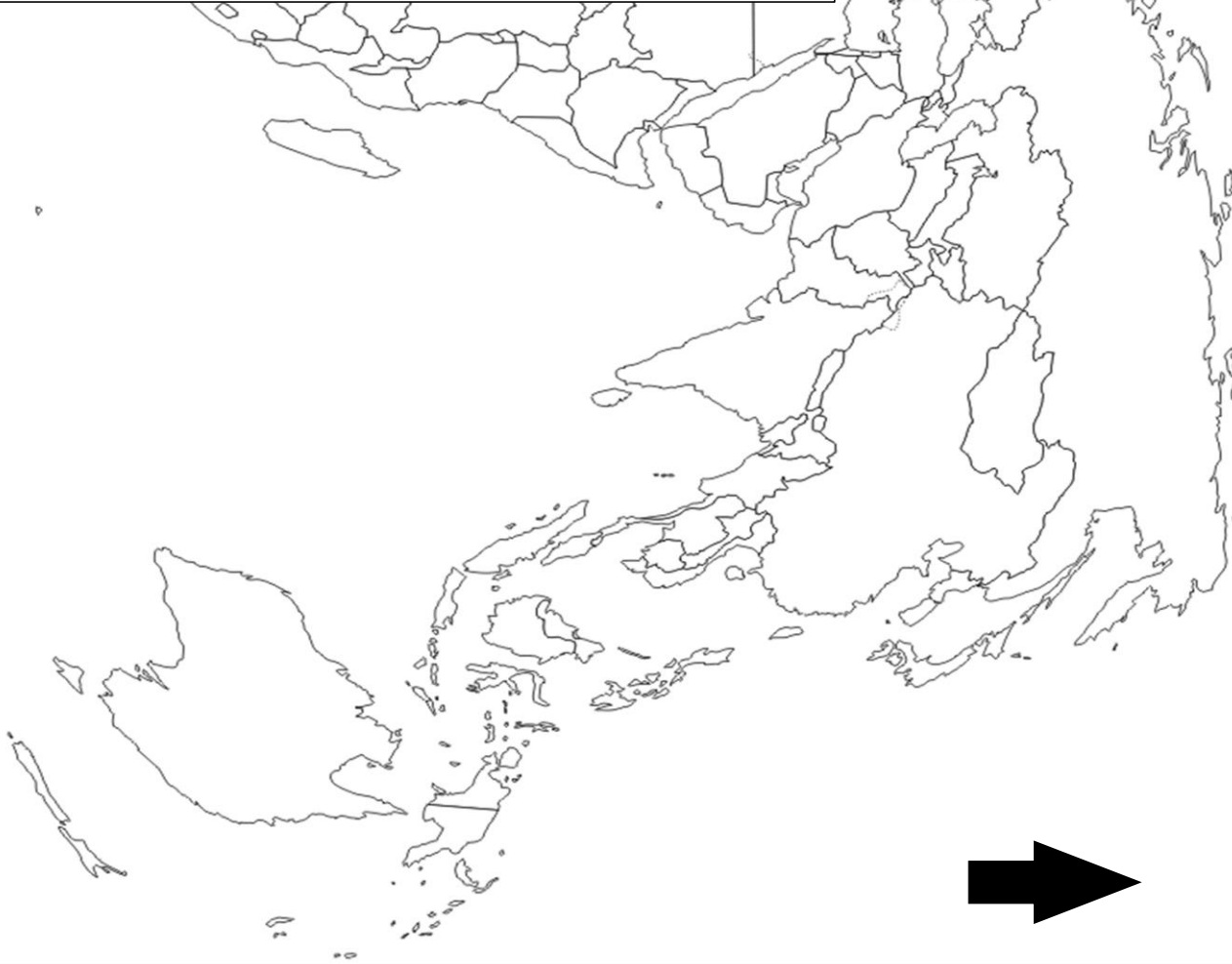
- 1- أسس التنظيم الدولي لما بعد الحرب العالمية الثانية.
- 2- مدى تأثر التنظيم الدولي لما بعد الحرب العالمية 2 بالصراع بين القطبين.



.....



قارة أوروبا



.....

الجغرافيا: الجزء الأول (06 نقاط)

السند 1: ... النقود هي أهم الأدوات المالية لكنها لا تكفي لتطوير المبادلات وتحقيق النمو الاقتصادي ولذلك وجب أن يصاحبها عدد من الأدوات المالية الأخرى من أسهم وسندات وأوراق تجارية ... ساعد ظهور الأسهم على تكوين الشركات الكبرى وتجميع رؤوس الأموال الكافية لها ولذلك فإن ظهور مثل هذه الأدوات المالية كان حاسما في تطور المجتمعات الحديثة ...

النظام الاقتصادي الدولي المعاصر – حازم الببلاوي

السند 2: جدول يمثل أهم البورصات الكبرى في العالم وأرصدها المالية:

البورصة	نيويورك	طوكيو	لندن	باريس	فرانكفورت
رصيدها المالي (مليار دولار)	11534	3154	2671	1447	1322

أطلس العولمة 2004

التعليمة: انطلقا من السندات واعتمادا على معلوماتك المكتسبة

- 1- اشرح المصطلحات التي تحتها خط.
- 2- مثّل أرقام الجداول بأعمدة بيانية بمقياس رسم: 1 سم — 1000 مليار دولار — 1 سم — عمود (بورصة).
- 3- وقّع على خريطة العالم وملحّق أوروبّا المرفقين، البورصات الواردة في الجدول.

الجغرافيا: الجزء الثاني (04 نقاط)

يعتبر القمح الغذاء الأساسي للكثير من شعوب العالم، مما جعل توفيره ضرورة ملحة لتحقيق الأمن الغذائي والاستقرار السياسي

التعليمة: انطلقا من العبارة واعتمادا على ما درست أكتب مقالا جغرافيا تبين فيه:

- 1- أهمية القمح كمادة استراتيجية.
- 2- العوامل المتحكمة في التجارة الدولية للقمح.